

**Αριθμός 1013**

**ΔΙΕΞΑΓΩΓΗ ΓΡΑΠΤΗΣ ΕΞΕΤΑΣΗΣ ΠΟΥ ΠΡΟΒΛΕΠΕΤΑΙ ΣΤΟΥΣ ΠΕΡΙ ΑΞΙΟΛΟΓΗΣΗΣ ΥΠΟΨΗΦΙΩΝ ΓΙΑ ΔΙΟΡΙΣΜΟ ΣΤΗ ΔΗΜΟΣΙΑ ΥΠΗΡΕΣΙΑ ΝΟΜΟΥΣ ΤΟΥ 1998 ΕΩΣ 2021 ΓΙΑ ΘΕΣΕΙΣ ΕΙΣΔΟΧΗΣ ΣΤΗ ΔΗΜΟΣΙΑ ΥΠΗΡΕΣΙΑ ΤΩΝ ΟΠΟΙΩΝ Η ΑΡΧΙΚΗ ΚΛΙΜΑΚΑ ΔΕΝ ΥΠΕΡΒΑΙΝΕΙ ΤΗΝ ΚΛΙΜΑΚΑ Α8 ΤΟΥ ΚΥΒΕΡΝΗΤΙΚΟΥ ΜΙΣΘΟΛΟΓΙΟΥ, ΓΙΑ ΤΙΣ ΟΠΟΙΕΣ ΑΠΑΙΤΕΙΤΑΙ ΩΣ ΒΑΣΙΚΟ ΠΡΟΣΟΝ ΠΑΝΕΠΙΣΤΗΜΙΑΚΟ ΔΙΠΛΩΜΑ Ή ΙΣΟΤΙΜΟ ΠΡΟΣΟΝ**

Η Ειδική Επιτροπή η οποία, σύμφωνα με τις διατάξεις των περί Αξιολόγησης Υποψηφίων για Διορισμό στη Δημόσια Υπηρεσία Νόμων του 1998 έως 2021, είναι υπεύθυνη για τη διεξαγωγή της Γραπτής Εξέτασης αναφορικά με τη δημόσια υπηρεσία, για την οποία εφαρμόζονται οι περί Δημόσιας Υπηρεσίας Νόμοι του 1990 έως (Αρ. 3) του 2022, γνωστοποιεί ότι η Γραπτή Εξέταση για τις θέσεις εισδοχής στη δημόσια υπηρεσία, των οποίων η αρχική κλίμακα δεν υπερβαίνει την κλίμακα Α8 του κυβερνητικού μισθολογίου, για τις οποίες απαιτείται ως βασικό προσόν πανεπιστημιακό δίπλωμα ή ισότιμο προσόν (επιστημονικές θέσεις), θα διεξαχθεί το Σάββατο, 3.12.2022.

2. Η Ειδική Επιτροπή έχει αναθέσει στην Υπηρεσία Εξετάσεων του Υπουργείου Παιδείας, Αθλητισμού και Νεολαίας, την αρμοδιότητα διοργάνωσης και διεξαγωγής της πιο πάνω εξέτασης.

3. Επιτυχία στη Γραπτή Εξέταση παρέχει δικαίωμα υποβολής αίτησης διορισμού για αρκετές κατηγορίες θέσεων που ενδεχομένως να προκηρυχθούν κατά το έτος 2023 οι οποίες περιλαμβάνονται στο Παράρτημα Ιβ του σχετικού Καταλόγου Θέσεων που αναμένεται να εγκριθεί από τη Βουλή των Αντιπροσώπων και να δημοσιευτεί στην Επίσημη Εφημερίδα της Δημοκρατίας. Ενημέρωση και ανάρτηση του σχετικού Καταλόγου θα ακολουθήσει μετά την ψήφισή του από τη Βουλή και τη δημοσίευσή του στην Επίσημη Εφημερίδα της Δημοκρατίας.

Η πλήρωση των θέσεων γίνεται από την Επιτροπή Δημόσιας Υπηρεσίας με βάση τις διατάξεις των αναφερόμενων στην επικεφαλίδα Νόμων. Για την πλήρωση των θέσεων που θα προκηρυχθούν οι επιτυχόντες στη γραπτή εξέταση θα υποβληθούν σε προφορική εξέταση, σύμφωνα με τις διατάξεις του οικείου νόμου.

4. Η Γραπτή Εξέταση θα είναι εξέταση ικανοτήτων, αποτελούμενη από τρία θέματα, διάρκειας 40 λεπτών το καθένα. Κάθε θέμα της εξέτασης αξιολογεί μια από τις εξής τρεις ικανότητες, ως ακολούθως:

Θέμα 1: Αριθμητική Ικανότητα

Θέμα 2: Αφαιρετική Ικανότητα

Θέμα 3: Λεκτική Ικανότητα

Ακολουθεί Παράρτημα με περιγραφή της Εξεταστέας Ύλης.

5. Επιτυχών στη Γραπτή Εξέταση θα είναι όποιος συγκεντρώσει συνολική γενική βαθμολογία 50% τουλάχιστον κατά μέσο όρο και στο καθένα από τα θέματα που περιλαμβάνονται στην εξέταση 40% τουλάχιστον. Οι βαθμολογίες των επιτυχόντων θα υπόκεινται σε περαιτέρω στατιστική επεξεργασία και η τελική βαθμολογία που θα δοθεί από την Υπηρεσία Εξετάσεων θα είναι σε τρία δεκαδικά. Η βαθμολόγηση των γραπτών γίνεται από βαθμολογητές που ορίζει η Υπηρεσία Εξετάσεων με βάση τους ίδιους κανόνες που εφαρμόζονται για βαθμολόγηση των γραπτών εξετάσεων για τα Ανώτερα και Ανώτατα Εκπαιδευτικά Ιδρύματα Κύπρου και Ελλάδας.

6. Δικαίωμα συμμετοχής στην εν λόγω Γραπτή Εξέταση έχουν όσοι θεωρούν ότι ικανοποιούν τις σχετικές νομοθετικές διατάξεις για διορισμό στη δημόσια υπηρεσία.

7. Όσοι ενδιαφέρονται να παρακαθήσουν στη Γραπτή Εξέταση θα πρέπει να υποβάλουν ηλεκτρονικά τις αιτήσεις τους στην Υπηρεσία Εξετάσεων του Υπουργείου Παιδείας, Αθλητισμού και Νεολαίας, καταβάλλοντας το καθορισμένο τέλος συμμετοχής στην εξέταση που ορίστηκε στα πενήντα (€50) Ευρώ. Η διαδικασία έναρξης υποβολής αιτήσεων για συμμετοχή στις πιο πάνω εξετάσεις καθώς και η πληρωμή του τέλους συμμετοχής θα ξεκινήσει στις 26 Σεπτεμβρίου 2022, η ώρα 12 το μεσημέρι και θα ολοκληρωθεί στις 4 Οκτωβρίου 2022, η ώρα 12 το μεσημέρι. Οι σχετικές οδηγίες για την υποβολή των αιτήσεων θα υπάρχουν στον ειδικό ιστότοπο της Υπηρεσίας Εξετάσεων του Υπουργείου Παιδείας, Αθλητισμού και Νεολαίας: <http://epd.moec.gov.cy>. Επιπρόσθετες αιτήσεις δεν θα γίνουν δεκτές, για αυτό καλούνται οι υποψήφιοι να υποβάλουν αίτηση έγκαιρα. Τονίζεται ότι τα τέλη των εξετάσεων δεν επιστρέφονται σε καμία περίπτωση.

8. Τα εξεταστικά κέντρα στα οποία θα διεξαχθεί η εξέταση θα ανακοινωθούν σε μεταγενέστερο στάδιο από την Υπηρεσία Εξετάσεων του Υπουργείου Παιδείας, Αθλητισμού και Νεολαίας.

9. Με βάση τα αποτελέσματα της Γραπτής Εξέτασης καταρτίζεται από την Ειδική Επιτροπή κατάλογος επιτυχόντων, ο οποίος και δημοσιεύεται στον ημερήσιο τύπο, σε τρεις τουλάχιστον εφημερίδες, καθώς και στην Επίσημη Εφημερίδα της Δημοκρατίας. Όλοι όσοι παρακάθησαν στη Γραπτή Εξέταση ειδοποιούνται αν πέτυχαν ή όχι στη γραπτή εξέταση και όσοι πέτυχαν εφοδιάζονται με σχετικό πιστοποιητικό επιτυχίας.

10. Σχετικό ενημερωτικό υλικό που περιλαμβάνει χρήσιμες πληροφορίες και δείγματα ερωτήσεων θα αναρτηθεί στον ιστότοπο <http://epd.moec.gov.cy>. Στον ίδιο ιστότοπο θα αναρτηθεί ο σχετικός Κατάλογος των Θέσεων όπως αυτός θα εγκριθεί από τη Βουλή των Αντιπροσώπων και θα δημοσιευτεί στην Επίσημη Εφημερίδα της Δημοκρατίας με τα συνοπτικά απαιτούμενα για κάθε θέση προσόντα κτλ. Επίσης, στον ίδιο ιστότοπο θα αναρτούνται όλες οι μελλοντικές ανακοινώσεις που αφορούν τη γραπτή εξέταση και τη συμμετοχή σε αυτήν.

11. Για πρόσθετες πληροφορίες σχετικά με την υποβολή αιτήσεων συμμετοχής στη γραπτή εξέταση, τα εξεταστικά κέντρα κτλ., οι ενδιαφερόμενοι μπορούν να αποστεινούνται στα τηλέφωνα 22582933, 22582934.

12. Για πληροφορίες που αφορούν το νομοθετικό πλαίσιο των προσλήψεων στη δημόσια υπηρεσία, τις θέσεις για τις οποίες διεξάγεται η γραπτή εξέταση, τα προσόντα που απαιτούνται κτλ., οι ενδιαφερόμενοι μπορούν να αποστεινούνται στα τηλέφωνα 22602555, 22602568, 22602569.

ΕΙΔΙΚΗ ΕΠΙΤΡΟΠΗ,  
Σεπτέμβριος 2022.

#### ΠΑΡΑΡΤΗΜΑ

**ΕΞΕΤΑΣΤΕΑ ΥΛΗ ΤΗΣ ΓΡΑΠΤΗΣ ΕΞΕΤΑΣΗΣ Η ΟΠΟΙΑ ΘΑ ΔΙΕΞΑΧΘΕΙ ΣΤΙΣ 3.12.2022  
ΜΕ ΒΑΣΗ ΤΙΣ ΔΙΑΤΑΞΕΙΣ ΤΩΝ ΠΕΡΙ ΑΞΙΟΛΟΓΗΣΗΣ ΥΠΟΨΗΦΙΩΝ ΓΙΑ ΔΙΟΡΙΣΜΟ  
ΣΤΗ ΔΗΜΟΣΙΑ ΥΠΗΡΕΣΙΑ ΝΟΜΩΝ ΤΟΥ 1998 ΕΩΣ 2018 ΓΙΑ ΘΕΣΕΙΣ ΕΙΣΔΟΧΗΣ  
ΣΤΗ ΔΗΜΟΣΙΑ ΥΠΗΡΕΣΙΑ ΤΩΝ ΟΠΟΙΩΝ Η ΑΡΧΙΚΗ ΚΛΙΜΑΚΑ ΔΕΝ ΥΠΕΡΒΑΙΝΕΙ ΤΗΝ ΚΛΙΜΑΚΑ Α8  
ΤΟΥ ΚΥΒΕΡΝΗΤΙΚΟΥ ΜΙΣΘΟΛΟΓΙΟΥ ΚΑΙ ΓΙΑ ΤΙΣ ΟΠΟΙΕΣ ΑΠΑΙΤΕΙΤΑΙ ΩΣ ΒΑΣΙΚΟ  
ΠΡΟΣΟΝ ΠΑΝΕΠΙΣΤΗΜΙΑΚΟ ΔΙΠΛΩΜΑ Ή ΙΣΟΤΙΜΟ ΠΡΟΣΟΝ**

Η Ειδική Επιτροπή, η οποία, σύμφωνα με τις διατάξεις των περί Αξιολόγησης Υποψηφίων για Διορισμό στη Δημόσια Υπηρεσία Νόμων, είναι υπεύθυνη για τη διεξαγωγή της Γραπτής Εξέτασης αναφορικά με τη δημόσια υπηρεσία, για την οποία εφαρμόζονται οι περί Δημόσιας Υπηρεσίας Νόμοι του 1990 έως (Αρ. 3) του 2022, γνωστοποιεί ότι σε γενικές γραμμές η ύλη της πιο πάνω Γραπτής Εξέτασης είναι η ακόλουθη:

**Οι υποψήφιοι θα κληθούν να διαγωνιστούν σε εξέταση Ικανοτήτων.**

Η εξέταση ικανοτήτων θα περιλαμβάνει τρία θέματα, διάρκειας 40 λεπτών το καθένα, σύμφωνα με το πρόγραμμα που θα ανακοινωθεί. Κάθε θέμα θα περιλαμβάνει ερωτήσεις πολλαπλής επιλογής με πέντε (5) επιλογές απάντησης. Στόχος της εξέτασης ικανοτήτων είναι να αξιολογήσει την ικανότητα των υποψηφίων να λύνουν προβλήματα, γρήγορα και ορθά, συνδυάζοντας πληροφορίες (οπτικές, αριθμητικές ή γλωσσικές) που τους δίνονται. Κάθε θέμα αξιολογεί μια από τις εξής τρεις ικανότητες: 1. Αριθμητική Ικανότητα, 2. Αφαιρετική Ικανότητα και 3. Λεκτική Ικανότητα.

**Θέμα 1: Αριθμητική Ικανότητα**

Το πρώτο θέμα της εξέτασης, του αριθμητικού συλλογισμού, επίσης γνωστό ως εξέταση αριθμητικής ικανότητας ή ποσοτικού συλλογισμού, αξιολογεί την ικανότητα του ατόμου να συλλογίζεται με μαθηματικές έννοιες και να εξαγάγει λογικά συμπεράσματα προκειμένου να λύσει προβλήματα που αφορούν ποσότητες, σχέσεις, σύνολα κ.ά.

**Θέμα 2: Αφαιρετική Ικανότητα**

Το δεύτερο θέμα της εξέτασης αξιολογεί την ικανότητα αφαιρετικού συλλογισμού (χρήση επαγωγικής σκέψης) του υποψηφίου. Σ' αυτό το θέμα ο υποψήφιος καλείται να λύσει προβλήματα που απαιτούν εύρεση γενικεύσεων, όπως είναι τα πρότυπα ή οι ιδιότητες που μοιράζονται μια ποικιλία συγκεκριμένων στοιχείων ή σχημάτων.

**Θέμα 3: Λεκτική Ικανότητα**

Το τρίτο θέμα της εξέτασης αξιολογεί την ικανότητα του εξεταζόμενου να κατανοεί λεκτικές πληροφορίες (έννοιες, επιχειρήματα, μικρά κείμενα) και βάσει αυτών να προβαίνει σε λογικούς συλλογισμούς.

**Δείγματα Ερωτήσεων:**

(Οι παρακάτω ερωτήσεις είναι δειγματικές και σε καμιά περίπτωση δεν καλύπτουν όλο το εύρος των πιθανών ερωτήσεων που θα συναντήσουν οι υποψήφιοι εντός των τριών θεμάτων της εξέτασης Ικανοτήτων).

**Θέμα 1:**

**Παράδειγμα 1:**

Κάθε πρόβλημα αποτελείται από μια διατύπωση, που ορίζει τα στοιχεία του προβλήματος και πέντε επιλογές απάντησης. Δικό σας έργο θα είναι να διαβάσετε πολύ προσεκτικά τη διατύπωση του προβλήματος και να επιλέξετε τη σωστή απάντηση που βρίσκεται σε μια από τις πέντε επιλογές που δίνονται. Καλείστε να επιλέξετε τη σωστή απάντηση μεταξύ των πέντε επιλογών που σας δίνονται και να τη μεταφέρετε στο Φύλλο Απαντήσεων.

Το Υπουργείο Παιδείας, Αθλητισμού και Νεολαίας, προκειμένου να οργανώσει καλύτερα τα μαθήματα που προσφέρουν τα Επιμορφωτικά Κέντρα έκανε δημοσκόπηση σε δείγμα 250 πολιτών. Τα αποτελέσματα της δημοσκόπησης των 250 πολιτών έδειξαν τα εξής: 140 επιθυμούν μαθήματα τέχνης, 160 μαθήματα χορού, 70 μαθήματα ξένων γλωσσών, 70 τέχνη και χορό, 50 τέχνη και ξένες γλώσσες, 30 χορό και ξένες γλώσσες και 15 τέχνη, χορό και ξένες γλώσσες. Πόσοι πολίτες δεν δήλωσαν ότι τους αρέσει κάποιος τύπος μαθήματος;

(α) 60 (β) 10 (γ) 15 (δ) 40 (ε) 20

Η σωστή απάντηση είναι το (γ). Αν κάνουμε ένα διάγραμμα Venn αυτό θα μας δείξει:  $5+35+15+15+35+55+75=235$  πολίτες ενδιαφέρονται για τουλάχιστον ένα τύπο μαθήματος. Συνεπώς,  $250-235=15$  πολίτες δεν δήλωσαν ότι τους αρέσει κάποιος τύπος μαθήματος.

### Παράδειγμα 2:

Οι ανακριτές της αστυνομίας χρησιμοποιούν ερωτήσεις για να αποσπάσουν πληροφορίες και μαρτυρίες για την ενοχή ή την αθωότητα του ατόμου που ανακρίνεται. Υπάρχουν τέσσερα πιθανά αποτελέσματα: (1) ένα άτομο έχει διαπράξει έγκλημα και λέει την αλήθεια ομολογώντας ένα έγκλημα που πραγματικά διέπραξε, (2) ένα άτομο διέπραξε έγκλημα αλλά δε λέει την αλήθεια ισχυριζόμενος ότι είναι αθώος ενώ στην πραγματικότητα δεν είναι, (3) ένα άτομο δεν διέπραξε έγκλημα και λέει την αλήθεια ισχυριζόμενος ότι είναι αθώος για ένα έγκλημα που δεν διέπραξε και (4) ένα άτομο δεν διέπραξε έγκλημα αλλά δε λέει την αλήθεια ομολογώντας ένα έγκλημα που στην πραγματικότητα δεν έκανε.

Οι ανακριτές έχουν στατιστικά στοιχεία που τους καθοδηγούν στην ανάκριση. Με βάση αυτά τα στοιχεία όταν κάποιος είναι κατηγορούμενος για έγκλημα και ανακρίνεται υπάρχει 80% πιθανότητα να μη διέπραξε έγκλημα, 15% πιθανότητα να μη λέει την αλήθεια και 1% πιθανότητα να ομολογεί ένα έγκλημα που δεν διέπραξε. Με βάση αυτά τα στατιστικά στοιχεία, ποια είναι η πιθανότητα για ένα άτομο που διέπραξε ένα έγκλημα και λέει την αλήθεια, ομολογεί, δηλαδή, ένα έγκλημα που πραγματικά διέπραξε;

α) 6%      β) 10%      γ) 15%      δ) 7%      ε) 20%

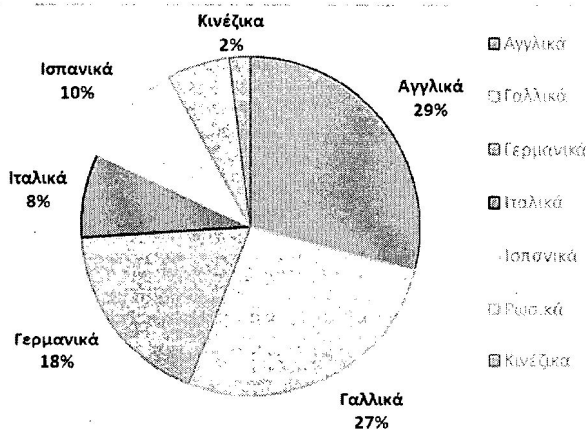
Η σωστή απάντηση είναι το (α). Αν κάνουμε ένα πίνακα διπλής εισόδου με τις μεταβλητές διέπραξε ή όχι έγκλημα στις στήλες και λέει ή δεν λέει την αλήθεια στις γραμμές και συμπληρώσουμε τα κελιά του πίνακα αθροίζοντας τα ποσοστά οριζοντίως και καθέτως, θα βρούμε ότι υπάρχει 6% πιθανότητα ένας ανακρινόμενος να διέπραξε πραγματικά ένα έγκλημα και να το ομολογεί.

### Παράδειγμα 3:

Ένα Ινστιτούτο Γλωσσών προσφέρει επτά γλώσσες. Κάθε σπουδαστής παρακολουθεί μια γλώσσα. Το ποσοστό των σπουδαστών που παρακολουθεί καθεμιά από τις 7 γλώσσες στην αρχή της ακαδημαϊκής χρονιάς φαίνεται στη γραφική παράσταση. Αν 20 σπουδαστές παρακολουθούν ιταλικά, πόσοι σπουδαστές παρακολουθούν ρωσικά;

α) 35      β) 10      γ) 15      δ) 27      ε) 20

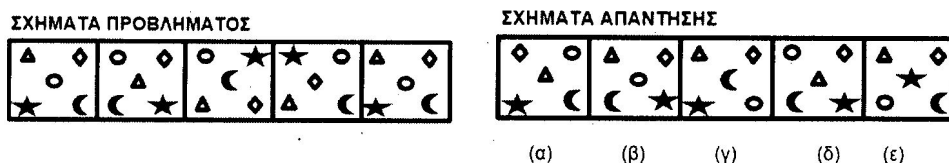
Η σωστή απάντηση είναι το (γ). Αν 8% παρακολουθούν ιταλικά, τότε το 1% είναι  $20/8=2.5$ . Επίσης  $100-(29+27+18+8+10+2)=6\%$  παρακολουθεί ρωσικά. Άρα  $6 \cdot 2.5=15$  παρακολουθούν ρωσικά.



### Θέμα 2:

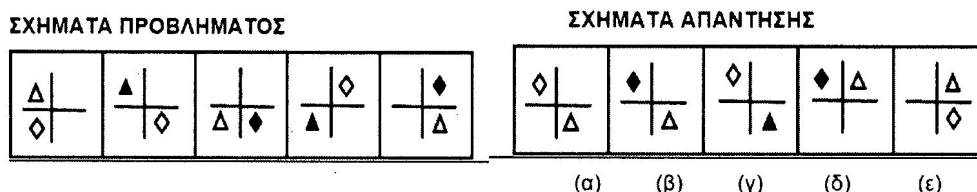
Σε κάθε σελίδα του Θέματος 2 θα υπάρχουν γραμμές Σχημάτων. Σε κάθε γραμμή Σχημάτων θα υπάρχουν δύο σειρές σχημάτων, τα Σχήματα Προβλήματος και τα Σχήματα Απάντησης. Τα Σχήματα Απάντησης είναι αριθμημένα (α), (β), (γ), (δ) και (ε). Έργο σας θα είναι να προσέξετε καλά τη σειρά των Σχημάτων Προβλήματος και έπειτα να αναζητήσετε το σχήμα από τη σειρά των Σχημάτων Απάντησης (βρίσκονται στα δεξιά κάθε συνόλου Σχημάτων Προβλήματος) που είναι **το επόμενο** στη σειρά των Σχημάτων Προβλήματος. Την απάντησή σας να τη γράψετε στο Φύλλο Απαντήσεων.

## Παράδειγμα 1:



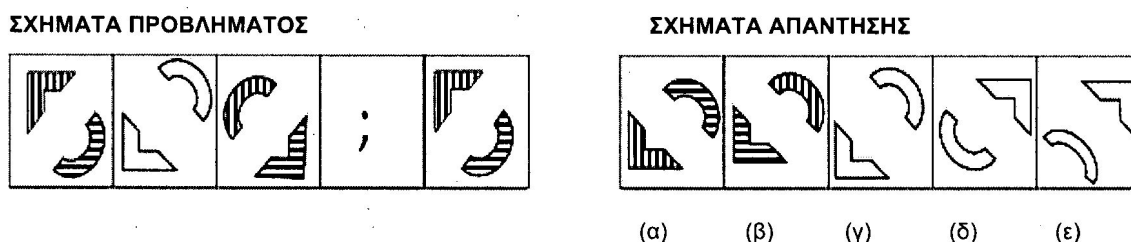
Η προσεκτική παρατήρηση των Σχημάτων Προβλήματος οδηγεί στο συμπέρασμα ότι, σε κάθε επιμέρους πλαίσιο, το μεσαίο σχήμα αλλάζει θέση με το σχήμα πάνω αριστερά, κάτω αριστερά, κάτω δεξιά και πάνω δεξιά κατά σειρά. Ταυτόχρονα, αμοιβαία αλλαγή θέσης κατά σειρά συμβαίνει και στα σχήματα της κάτω σειράς, της στήλης δεξιά, της πάνω σειράς, της στήλης αριστερά κ.ο.κ. Συνεπώς, το σωστό σχήμα που πρέπει να επιλέξετε από τη σειρά των Σχημάτων Απάντησης είναι το (δ).

## Παράδειγμα 2:



Η προσεκτική παρατήρηση των Σχημάτων Προβλήματος οδηγεί στο συμπέρασμα ότι, σε κάθε επιμέρους πλαίσιο τα γεωμετρικά σχήματα (τρίγωνο και ρόμβος) αναπηδούν εναλλάξ στο επόμενο τεταρτημόριο αριστερόστροφα. Επιπρόσθετα, το γεωμετρικό σχήμα που μένει σταθερό μαυρίζει ενώ αυτό που αναπηδά ασπρίζει. Στο πρώτο πλαίσιο αναπηδά στην επόμενη θέση ο ρόμβος, στο δεύτερο το τρίγωνο κοκ. Συνεπώς, το σωστό σχήμα που πρέπει να επιλέξετε από τη σειρά των Σχημάτων Απάντησης είναι το (γ).

## Παράδειγμα 3:



Η προσεκτική παρατήρηση των Σχημάτων Προβλήματος οδηγεί στο συμπέρασμα ότι το σωστό σχήμα που πρέπει να επιλέξετε από τη σειρά των Σχημάτων Απάντησης είναι το (δ).

## Θέμα 3:

Ένα **επιχείρημα** είναι μια σειρά από δηλώσεις που χρησιμοποιούνται συνήθως για να πειστεί κάποιος για κάτι ή να παρουσιαστούν οι λόγοι για την αποδοχή ενός συμπεράσματος. Στα προβλήματα που θα περιλαμβάνει η εξέταση θα σας δίνονται επιχειρήματα και έργο σας θα είναι να εντοπίσετε το συμπέρασμα. Την απάντησή σας θα τη γράψετε στο Φύλλο Απαντήσεων.

## Παράδειγμα 1:

Η απώλεια αρκτικού πάγου προκύπτει ως αποτέλεσμα μιας θετικής ανατροφοδότησης. Καθώς λιώνει ο αρκτικός πάγος, η επιφάνεια του αρκτικού πάγου αντανακλά λιγότερες ηλιακές ακτίνες. Όταν συμβεί αυτό, περισσότερες ακτίνες απορροφούνται από τον γύρω ωκεανό, γεγονός που αυξάνει τη θερμοκρασία του. Καθώς η θερμοκρασία του ωκεανού αυξάνεται, περισσότερος αρκτικός πάγος λιώνει.

- Όταν απορροφούνται περισσότερες ακτίνες από τον γύρω ωκεανό αυξάνεται η θερμοκρασία του.
- Καθώς η θερμοκρασία του ωκεανού αυξάνεται, περισσότερος αρκτικός πάγος λιώνει.
- Η απώλεια αρκτικού πάγου προκύπτει ως αποτέλεσμα μιας θετικής ανατροφοδότησης.
- Καθώς λιώνει ο αρκτικός πάγος, η επιφάνεια του αρκτικού πάγου αντανακλά λιγότερες ηλιακές ακτίνες.
- Η απώλεια αρκτικού πάγου συμβαίνει, όταν απορροφούνται περισσότερες ακτίνες από τον ωκεανό γύρω από τους αρκτικούς πάγους.

Η σωστή απάντηση είναι το (γ), διότι όλες οι υπόλοιπες προτάσεις που ακολουθούν την πρόταση αυτή στο κείμενο αναλύουν την πρόταση γ.

**Παράδειγμα 2:**

Παρακάτω θα διαβάσετε συλλογισμούς που περιγράφουν γεγονότα. Θα πρέπει να δεχτείτε όλα τα γεγονότα που περιγράφονται ως αληθή ως προς το περιεχόμενο (όχι κατ' ανάγκη και πραγματικά). Έργο σας είναι να διαβάσετε προσεκτικά τον κάθε συλλογισμό και να επιλέξετε την έγκυρη δήλωση (μια από τις πέντε εναλλακτικές α, β, γ, δ, και ε) που προκύπτει μόνο από το συνδυασμό της αλήθειας των προτάσεων που σας δίνονται.

Όταν βρέχει στη Γεροσκήπου, βρέχει και στην Πάφο.

Όταν βρέχει στην Πάφο, δεν βρέχει στην Πέγεια.

Ή στην Πάφο βρέχει ή στη Γεροσκήπου.

Ποιο συμπέρασμα ακολουθεί λογικά από τα παραπάνω;

α) Βρέχει στην Πάφο και δεν βρέχει στην Πέγεια.

β) Βρέχει στη Γεροσκήπου και στην Πέγεια.

γ) Δεν βρέχει στην Πάφο.

δ) Δεν βρέχει στη Γεροσκήπου.

ε) Βρέχει στη Γεροσκήπου.

Η σωστή απάντηση είναι το (α).

**Παράδειγμα 3:**

Υποθέστε ότι πάνω σε ένα τραπέζι βλέπετε τέσσερα φύλλα τράπουλας. Ένας φίλος σας πληροφορεί ότι, πρώτον, κάθε φύλλο έχει ένα γράμμα στη μία πλευρά και έναν αριθμό στην άλλη πλευρά και, δεύτερον, αν μια κάρτα έχει ένα φωνήεν στην πλευρά του γράμματος, τότε έχει ένα ζυγό αριθμό στην πλευρά του αριθμού. Βλέπετε ότι δύο από τα φύλλα δείχνουν γράμματα (το Κ και το Α) και δύο από τα φύλλα δείχνουν αριθμούς (το 8 και το 5). Ο φίλος σας ζητάει να αποφασίσετε ποια κάρτα ή κάρτες πρέπει να γυρίσετε, ώστε να επιβεβαιώσετε αν ο κανόνας είναι αληθής ή ψευδής. Ποια φύλλα θα γυρίσετε;

α) μόνον το φύλλο Α

β) τα φύλλα Α και 8

γ) μόνον το φύλλο 8

δ) τα φύλλα 8 και 5

ε) τα φύλλα Α και 5

Η σωστή απάντηση είναι το (ε).

**Βαθμολογία**

Επιτυχών στη Γραπτή Εξέταση θα είναι όποιος συγκεντρώσει συνολική γενική βαθμολογία 50% τουλάχιστον κατά μέσο όρο και στο καθένα από τα θέματα που περιλαμβάνονται στην εξέταση 40% τουλάχιστον. Οι βαθμολογίες των επιτυχόντων θα υπόκεινται σε περαιτέρω στατιστική επεξεργασία και η τελική βαθμολογία που θα δοθεί από την Υπηρεσία Εξετάσεων θα είναι σε τρία δεκαδικά. Η βαθμολόγηση των γραπτών γίνεται από βαθμολογητές που ορίζει η Υπηρεσία Εξετάσεων με βάση τους ίδιους κανόνες που εφαρμόζονται για βαθμολόγηση των γραπτών εξετάσεων για τα Ανώτερα και Ανώτατα Εκπαιδευτικά Ιδρύματα Κύπρου και Ελλάδας.